

NAMA PELAJAR

NO. KAD PENGENALAN

ANGKA GILIRAN

1249/2

Sejarah

Kertas 2

Ogos / September

2018

2 ½ Jam



MAJLIS PENGETUA SEKOLAH MENENGAH MALAYSIA
NEGERI SEMBILAN DARUL KHUSUS

PROGRAM PENINGKATAN AKADEMIK TINGKATAN 5
SEKOLAH-SEKOLAH NEGERI SEMBILAN 2018

SEJARAH

KERTAS 2

Dua jam tiga puluh minit

JANGAN BUKA KERTAS SOALAN INI SEHINGGA DIBERITAHU

1. Kertas soalan ini mengandungi dua bahagian : **Bahagian A dan Bahagian B**

2. Jawab semua soalan dalam **Bahagian A** dan **tiga soalan di Bahagian B**

3. Jawapan **Bahagian A** hendaklah ditulis dalam ruang yang disediakan dalam kertas soalan

4. Jawapan **Bahagian B** hendaklah ditulis pada kertas jawapan berasingan yang telah disediakan

5. Kertas soalan ini hendaklah diikat dan dihantar bersama-sama kertas jawapan **Bahagian B**

6. Markah yang diperuntukkan bagi setiap soalan atau ceraian soalan ditunjukkan dalam kurungan

Untuk Kegunaan Pemeriksa

Bahagian	Soalan	Markah Penuh	Markah Diperolehi
A	1	10	
	2	10	
	3	10	
	4	10	
B	5	20	
	6	20	
	7	20	
	8	20	
	9	20	
	10	20	
	11	20	
Jumlah		100	

[Lihat halaman sebelah

SULIT

Bahagian A
 [40 markah]
 Jawab semua soalan

1 Maklumat berikut berkaitan dengan aktiviti perdagangan di India.

Sresthin telah merangsang perkembangan perdagangan dalam tamadun India

(a) Apakah maksud *sresthin*?

.....

[2 markah]

b) Bagaimanakah *sresthin* membantu memajukan sektor perdagangan dalam tamadun India?

.....

[4 markah]

(c) Sejauh manakah persatuan perniagaan membantu memakmurkan ekonomi negara masa kini?

.....

[4 markah]

2 Kedatangan Islam telah mengubah kedudukan dan corak institusi raja di Tanah Melayu.

(a) Apakah gelaran yang digunakan oleh pemerintah di Tanah Melayu selepas kedatangan Islam?

.....
.....

[2 markah]

(b) Gambar berikut berkaitan dengan konsep daulat.



<https://www.youtube.com>

Mengapakah konsep daulat sangat penting dalam institusi kesultanan Melayu?

.....
.....
.....
.....

[4 markah]

(c)

Raja dan rakyat berpisah tiada,
Masalah rakyat dikongsi bersama,
Rakyat mengangkat Institusi diraja,
Raja dan rakyat rasa bahagia.

Sumber : Nukilan Rabeah Binti Mohd Ali

Ulaskan petikan pantun tersebut.

.....

.....

.....

.....

[4 markah]

3. Jadual berikut merupakan perjuangan nasionalisme oleh persatuan-persatuan Melayu yang ditubuhkan di Negeri-Negeri Melayu Bersekutu pada awal abad ke-20.

Tahun	Negeri
1937	Perak
1938	Selangor
1938	Negeri Sembilan

(a) Mengapakah persatuan tersebut ditubuhkan?

.....
.....

[2 markah]

(b) Buktikan kejayaan yang dicapai oleh penduduk tempatan melalui penyertaan mereka dalam persatuan tersebut?

.....
.....
.....
.....

[4 markah]

(c) Sejauh manakah penyertaan dalam persatuan tersebut dapat memberi manfaat kepada masyarakat pada masa kini?

.....
.....
.....
.....

[4 markah]

4 Maklumat berikut adalah berkaitan dengan Dasar Kependudukan yang telah dikemukakan oleh Perdana Menteri pada 29 Mac 1984.

Mencapai sasaran 70 juta penduduk Malaysia menjelang tahun 2100

(a) Apakah kebaikan pelaksanaan dasar tersebut ?

.....

.....

[2 markah]

(b) Dasar Kependudukan mengutamakan keselarasan kadar pertumbuhan penduduk dengan kadar pembangunan negara.

Bagaimanakah dasar tersebut dapat dijayakan?

.....

.....

.....

.....

.....

[4 markah]

(c) Pada pendapat anda, mampukah negara Malaysia mencapai sasaran 70 juta penduduk menjelang tahun 2100?

Berikan alasan anda.

.....

.....

.....

.....

[4 markah]

Bahagian B
[60 markah]


Jawab **tiga** soalan daripada bahagian ini.

5 Kerajaan awal di Asia Tenggara terbahagi kepada dua iaitu kerajaan agraria dan kerajaan maritim.

(a) Mengapakah kerajaan Angkor dianggap sebagai sebuah kerajaan agraria?

[4 markah]

(b) Gambar 1 mempunyai hubungkait dengan perkembangan kerajaan Srivijaya sebagai sebuah kerajaan Maritim.



Gambar 1

Terangkan faktor perkembangan kerajaan Srivijaya berdasarkan gambar tersebut?

[8 markah]

(c) Adakah negara kita berpotensi menjadi sebagai sebuah kerajaan maritim atau agraria?

Beri alasan anda.

[8 markah]

- 6 Maklumat berikut berkaitan dengan peperangan yang berlaku semasa zaman Nabi Muhammad s.a.w.

- Badar (624M)
- Uhud (625M)
- Khandak (627M)
- Tabuk (630M)

- (a) Mengikut ajaran Islam, apakah prinsip-prinsip yang membolehkan sesuatu peperangan itu dilakukan? [4 markah]
- (b) Islam tidak disebarikan melalui mata pedang. Buktikan. [8 markah]
- (c) Pemimpin yang berwibawa mampu mengelakkan berlakunya peperangan. Jelaskan pernyataan tersebut. [8 markah]

- 7 Pernyataan berikut adalah berkaitan dengan dasar British terhadap pekebun kecil.

Kerajaan penjajah British sememangnya ingin mengekalkan orang Melayu sebagai golongan petani dalam kerangka ekonomi penjajah.

- (a) Apakah tindakan British untuk mencapai matlamat dasar tersebut? [4 markah]
- (b) Mengapakah British mahu mengekalkan orang Melayu sebagai golongan petani? [8 markah]
- (c) Selepas merdeka, kerajaan telah berjaya meningkatkan taraf hidup petani luar bandar. Bincangkan. [8 markah]

8 Gambar berikut berkaitan dengan tokoh perjuangan nasionalisme di Asia Tenggara.




Jose Rizal



Soekarno

- (a) Huraikan gerakan nasionalisme yang dijalankan oleh Jose Rizal di Filipina. [4 markah]
- (b) Sejauh manakah perjuangan Soekarno mempengaruhi masyarakat setempat menentang penjajah? [8 markah]
- (c) Jelaskan iktibar yang boleh diambil daripada perjuangan tokoh nasionalis tersebut dalam membentuk negara dan bangsa Malaysia yang gemilang. [8 markah]

9 Rajah berikut berkaitan dengan perubahan pentadbiran yang dilakukan oleh British di Tanah Melayu.



- (a) Mengapakah British menukar pentadbiran Malayan Union kepada Persekutuan Tanah Melayu 1948? [4 markah]
- (b) Pembentukan Persekutuan Tanah Melayu 1948 penting dalam pembinaan negara dan bangsa Malaysia. Jelaskan pernyataan ini. [8 markah]
- (c) Sejauh manakah perpaduan dalam kalangan masyarakat tempatan dapat menjamin keamanan dan kemajuan negara ini? [8 markah]

[Lihat halaman sebelah

10 Pakatan murni telah berjaya membawa kemerdekaan kepada negara.

(a) Apakah yang dimaksudkan dengan pakatan murni? [4 markah]

(b) Huraikan peranan Dato' Onn Jaafar dalam usaha mewujudkan pakatan murni di Tanah Melayu sebelum merdeka. [8 markah]

(c)


“Bulat air kerana pemetung, bulat kata kerana muafakat ”

Pada pendapat anda, apakah hubungkait peribahasa tersebut dengan konsep pakatan murni. [8 markah]

11 Pada akhir abad ke-20 dan abad ke-21 ini, muncul revolusi teknologi maklumat yang membawa perubahan besar kepada kehidupan kita.

(a) Apakah yang dimaksudkan dengan teknologi maklumat dan komunikasi? [4 markah]

(b) Data statistik berikut menunjukkan penggunaan internet di Malaysia tahun 2017.



Sumber : <http://iamk.com.my/articles/2017/11/25/statistik-penggunaan-internet-di-malaysia-2017/>

Berdasarkan data statistik tersebut, jelaskan kepentingan teknologi maklumat dan komunikasi dalam kehidupan masyarakat Malaysia pada masa kini.

[8 markah]

(c) K-Masyarakat bertujuan untuk melahirkan masyarakat Malaysia yang maju dan saintifik.

Huraikan.

[8 markah]

KERTAS PEPERIKSAAN TAMAT